

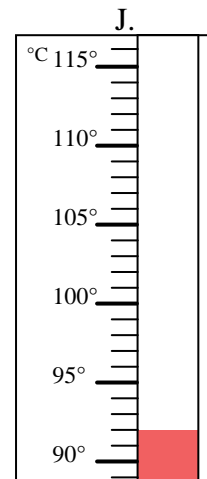
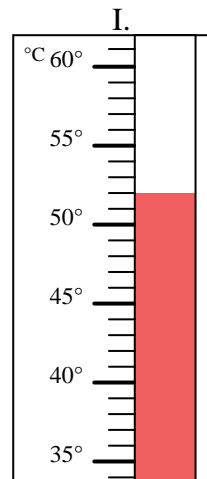
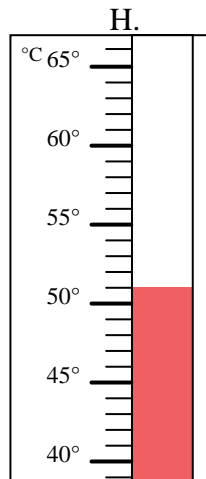
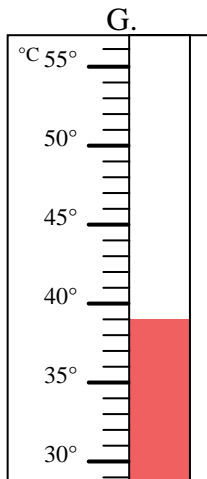
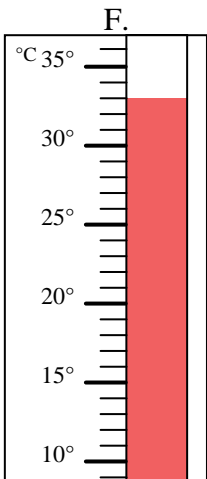
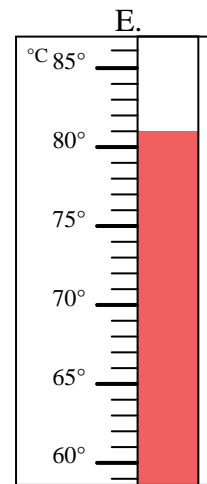
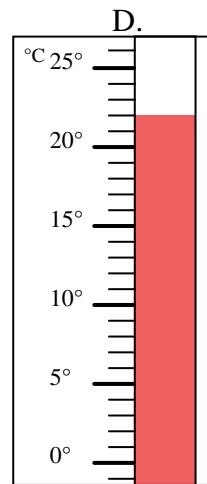
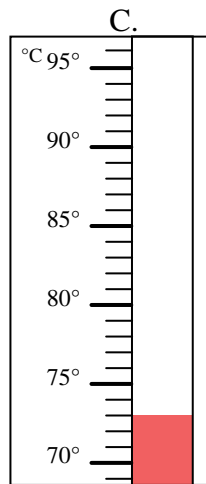
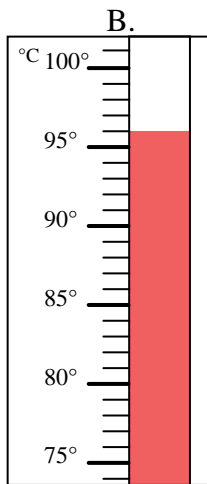
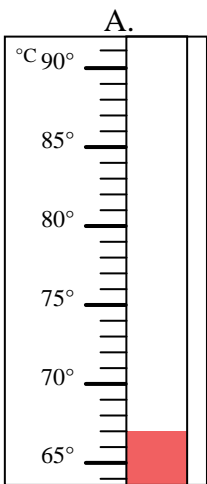


Indica quale lettera risponde correttamente ad ogni domanda.

Risposte

- 1) Quale termometro rappresenta correttamente una temperatura di 67°? _____
- 2) Quale termometro rappresenta correttamente una temperatura di 73°? _____
- 3) Quale termometro rappresenta correttamente una temperatura di 39°? _____
- 4) Quale termometro rappresenta correttamente una temperatura di 52°? _____
- 5) Quale termometro rappresenta correttamente una temperatura di 33°? _____
- 6) Quale termometro rappresenta correttamente una temperatura di 81°? _____
- 7) Quale termometro rappresenta correttamente una temperatura di 51°? _____
- 8) Quale termometro rappresenta correttamente una temperatura di 92°? _____
- 9) Quale termometro rappresenta correttamente una temperatura di 96°? _____
- 10) Quale termometro rappresenta correttamente una temperatura di 22°? _____

1. _____
2. _____
3. _____
4. _____
5. _____
6. _____
7. _____
8. _____
9. _____
10. _____





Indica quale lettera risponde correttamente ad ogni domanda.

- 1) Quale termometro rappresenta correttamente una temperatura di 67°? A
- 2) Quale termometro rappresenta correttamente una temperatura di 73°? C
- 3) Quale termometro rappresenta correttamente una temperatura di 39°? G
- 4) Quale termometro rappresenta correttamente una temperatura di 52°? I
- 5) Quale termometro rappresenta correttamente una temperatura di 33°? F
- 6) Quale termometro rappresenta correttamente una temperatura di 81°? E
- 7) Quale termometro rappresenta correttamente una temperatura di 51°? H
- 8) Quale termometro rappresenta correttamente una temperatura di 92°? J
- 9) Quale termometro rappresenta correttamente una temperatura di 96°? B
- 10) Quale termometro rappresenta correttamente una temperatura di 22°? D

Risposte

1. A
2. C
3. G
4. I
5. F
6. E
7. H
8. J
9. B
10. D

